


الفصل الاول


الاسئلة	الصفحة
<p>*حدد على الخريطة مايلي:</p> <p>١-جزيرة بوبيان ٢-الخليج العربي ٣-جون الكويت ٤- رأس الأرض ٥-جزيرة فيلكا</p>  <p>*اكمل الفراغ:-</p> <p>١ - يحد دولة الكويت من الشمال والشمال الغربي دولة تسمى.....</p> <p>٢ - يحد دولة الكويت من الجنوب والجنوب الغربي دولة تسمى.....</p> <p>٣-تقع دولة الكويت بين دائرتي عرض و.....شمالا</p> <p>٤ - تقع دولة الكويت بين خطي طول.....و.....شرقا</p> <p>٥-تبلغ مساحة دولة الكويت حوالي..... الف كم مربع</p> <p>٦- ينحدر سطح دولة الكويت من الغرب الى الشرق ولايزيد اعلى ارتفاع في المناطق الغربية عن.....متر فوق سطح الماء</p> <p>*اذكر التلال الموجودة في دولة الكويت</p> <p>.....</p> <p>*اذكر اشهر الاودية في دولة الكويت</p> <p>.....</p> <p>.....</p> <p>* اذكر اشهر السهول في دولة الكويت</p> <p>.....</p> <p>.....</p>	<p>١٩</p> <p>٢٠</p> <p>٢١</p>

<p>*اكمل الفراغ:</p> <p>١- الجزيرة التي اصبحت جزء من ميناء الشويخ تسمى.....</p> <p>٢- الجزيرة الكويتية المأهولة بالسكان تسمى.....</p> <p>٣- اكبر جزر الكويت مساحه هي</p> <p>٤- جزر الكويت عددها</p> <p>*اكتب مذكرات مختصرة عن:</p>	<p>٢٢</p>
<p>١- فرق بين كلا من المناخ في الكويت ومميزاته المناخيه</p> <p>الصيف:.....الشتاء:.....</p> <p>الربيع:.....الخريف:.....</p> <p>*علل:</p> <p>١- تتميز الرياح الشماليه الغربيه في دولة الكويت بالجفاف</p> <p>.....</p> <p>.....</p> <p>٢- تتميز الرياح الجنوبيه الشرقيه بأنها رطبه ودافئة</p> <p>.....</p> <p>.....</p> <p>*عرف:</p> <p>١- الكوس</p> <p>.....</p> <p>٢- السموم</p> <p>.....</p> <p>٣- السرايات</p> <p>.....</p>	<p>٢٣</p>
<p>*اكتب مذكرات مختصرة عن:</p> <p>١- السكان في دولة الكويت</p> <p>.....</p> <p>.....</p> <p>اكمل : الجزيره التي هجرها سكانها في الكويت عام ١٩٩٠ م هي</p>	<p>٢٤</p>

* اكمل الدول الاتي:

أول إحصاء للسكان في الكويت

السنة	في عهد	قام به



* اكمل الدائرة البيانية التالية بنسبة الوافدين بالكويت عام ١٩٩٠

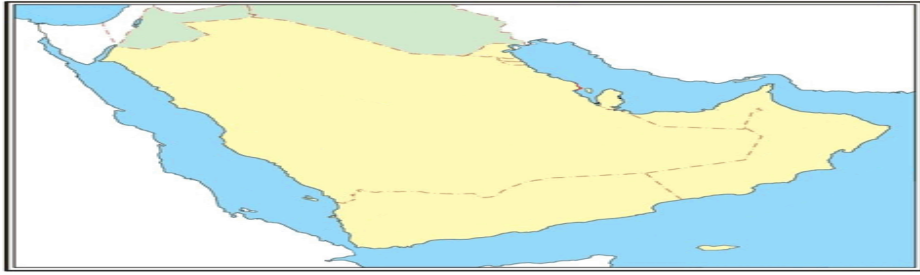
*علل:

قلة الوافدين في دولة الكويت بعد عام ١٩٩٠

* حدد على الخريطة التالية:

١-الخليج العربي ٢- خليج عمان ٣- مضيق هرمز

٢٥



*علل: الخليج العربي احد اسباب الازدهار الاقتصادي للمنطقة قديما

٢٦

* عرف : طريق الحرير



*لاحظ الخريطة ثم حدد : اسماء المسطحات المائية التي يمر بها طريق الحرير البحري

*عدد انواع النشاط البحري في الكويت قديما

١.....٢.....٣.....٤.....

* اكتب عن :

١-صيد الاسماك في الكويت قديما

٢٧

الى

٣٠

٢- العوامل التي ادت لازدهار صناعه السفن في الكويت

٣- الغوص على اللؤلؤ

٤- التجارة البحرية

*اذكر انواع السفن الكويتيه

*دلل على مايلي:-

اعتزاز دولة الكويت بتراثها البحري

*إشرح مدى تأثير حرفة الغوص على أهل الكويت

* عدد العاملون في حرفة الغوص

*عرف:

- ١-الاستاذ.....
٢-القلاف.....
٣-الدشة..... ٤-القفال.....
٥-الهيرات.....

*عدد انواع النشاط البري

- ١..... ٢.....

*اكتب عن :

١-حرفة الرعي في الكويت قديما

-
٢- الزراعة في الكويت قديما

٣١

٣-الحرف اليدويه

الى

-
.....

٣٧

*اذكر اهم المناطق الزراعية في الكويت قديما

-

*عدد اهم المحاصيل الزراعية في الكويت قديما

-

*علل: قلة الزراعة بالكويت

-

*عرف:

- ١-الصفار.....
٢-التناك.....
٣-القفاص.....
٤-النداف.....
٥-الصخين.....

- ٦- المنز :
- ٧- الرك :
- ٨- الحياك :
- ٩- النجار:
- ١٠- الحداد:
- ١١- العدول :
- ١٢- المزود:
- ١٣- موسم السفر:
- اكمل : المادة الاساسيه في صناعه بيت الشعر هي

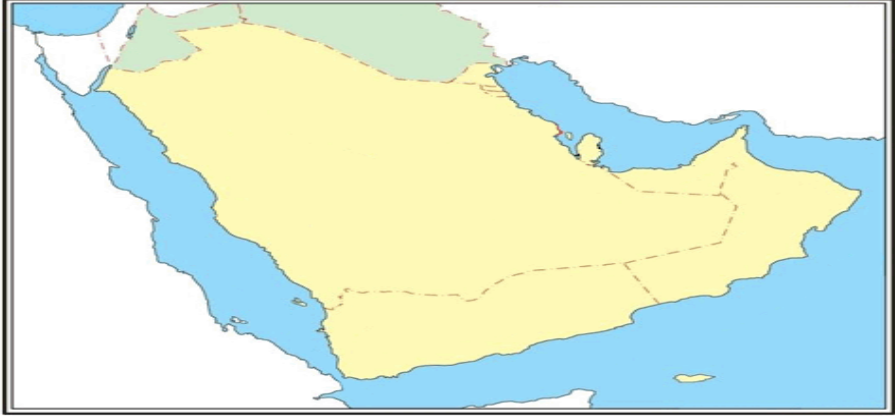
*قارن بين المميزات المناخيه لدوله الكويت في الفصول الاربعه

الصيف	الشتاء	الربيع	الخريف

* اثار الحضارات القديمة في دولة الكويت:

الحضارة	الفترة الزمنية	اهم المعالم الحضاريه
العبيد		
دلمون		
الاغريقيه		
الاسلاميه		

الفصل الثاني

الاسئلة	الصفحة
*اكمل الفراغ في العبارات الاتيه:-	٤٥
١- تأسست الكويت في الجزء الشمالي الغربي من الخليج العربي عام.....	
٢- ((الكويت أرض قفراء نزلها جدنا صباح عام ١٠٢٢هـ جري ١٦١٣ م)) قائل العبارة السابقة حاكم الكويت السابع المسمى.....	
٣- أسر ترجع أصولها الى عدة قبائل أبرزها قبيلة عنزه موطنهم الاصلي منطقة الهدار في نجد شكلوا حلف من مجموعه من الاسر المتحالفه هم ال صباح وال خليفه وال جلاهمه انتقلوا الي قطر الي منطقهبقطر قبل الانتقال الي الكويت والاستقرار بها	٤٦
٤-تم تقسيم المهام بين الاسر المتحالفه في الكويت بحيث تسند شؤون التجارة البحرية الى اسرةوشؤون التجارة البريه لاسرةوشؤون الحكم لاسرة.....	الى ٤٨
٥- سميت الكويت بهذا الاسم كويت تصغير كوت وتعني	
*عدد مراحل استقرارالحكم لال الصباح بالكويت	
.....	
.....	
*اكتب مذكرات مختصرة عن : ((علاقة الكويت وبني خالد))	
.....	
.....	
*حدد خط سير هجرة العتوب وذلك برسم سهم على الخريطة التاليه	
	

٤٩
الى
٥٠

*اكمل الجدول التالي:-

١- حكام دولة الكويت:

الترتيب	الاسم	الفترة	اهم الاحداث
الاول			
الثاني			
الثالث	جابر الاول	١٨١٤ ١٨٥٩	
الرابع			
الخامس			
السادس			

٢- معركة الرقة:-

تاريخ المعركة	الاطراف المتحاربة	الاسباب	النتائج

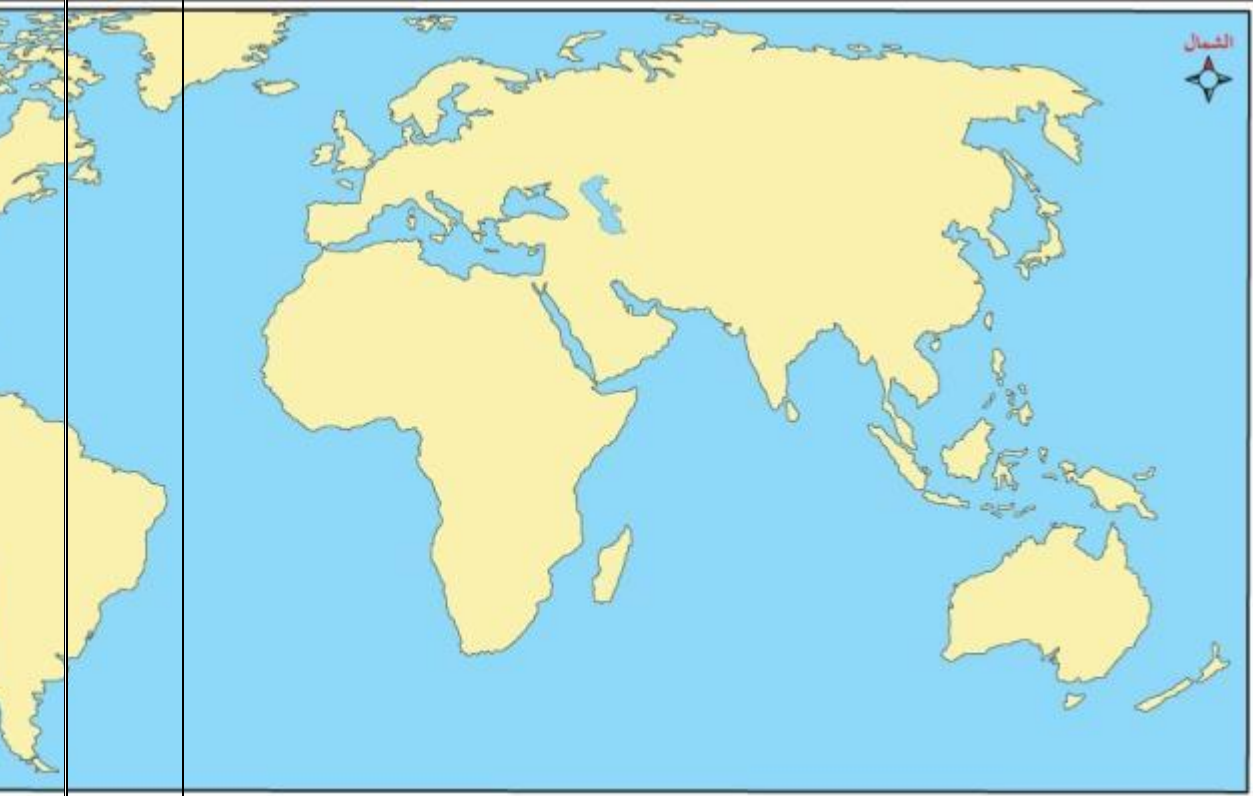
<p>*اكمل الفراغ في العبارات الاتيه:-</p>	<p>٥٢</p>
<p>١- الحاكم الاول لدولة الكويت عام ١٨١٤ م اسمه.....</p>	<p>الى</p>
<p>٢- توفي الشيخ صباح الاول عام.....</p>	<p>٥٣</p>
<p>٣- تولى الشيخ عبدالله الاول الحكم عام.....</p>	
<p>٤- حدثت معركة الرقة عام ١٧٨٣ بين الكويت و.....</p>	
<p>٥- حاكم الكويت الثالث الشيخ جابر الاول حصل على لقب هو.....</p>	
<p>٦- توفي الشيخ عبدالله بن صباح الثاني عام.....</p>	
<p>٧- حاكم الكويت الذي ساعد العثمانيين في حملتهم (حملة مدحت باشا) عام ١٨٧١ اسمه.....</p>	
<p>٨- حاكم الكويت الذي سهل استقرار اسرة الامير عبدالرحمن ال سعود اسمه.....</p> <p>* علل لمايتي:-</p>	
<p>١- النمو التجاري والاقتصادي للكويت تحت حكم آل صباح</p> <p>.....</p> <p>.....</p>	
<p>٢- نمو وازدهار الكويت تحت حكم آل صباح</p> <p>.....</p> <p>.....</p>	
<p>٣- تعززت نزعة الاستقلال لدى حكام الكويت</p> <p>.....</p> <p>.....</p>	
<p>٤- عدد اهم القرارات التي ساعده علي النمو التجاري والاقتصادي للكويت</p> <p>.....</p> <p>.....</p>	

الفصل الثالث

الصفحة	الاسئلة
--------	---------

٥٧ *انظر الخريطة امامك ثم نفذ المطلوب:-

الى
٥٩



mo3alem.com

١- حدد خط سير الطرق التجارية القديمه وذلك برسم الرمز ←

٢- حدد دولة تعد مركز للتوابل في جنوب شرق آسيا وذلك بوضع الرمز X

*اكتب مذكرات مختصرة عن:-

١- الاستعمار البرتغالي

.....

.....

٢- يعتبر الاستعمار البرتغالي اسوا النظم الاستعماريه في الخليج

.....

٣- الاستعمار الهولندي

٤- سياسته هولندا في منطقه الخليج العربي

٣- الاستعمار البريطاني

*علل/ العامل السياسي والديني للكشوف الجغرافية والاستعمارية

* اكمل الفراغ في العبارات الاتيه:-

٦٠

١- خرج اول اسطول هولندي الى آسيا عام.....

الى

٢- تم تأسيس شركة الهند البريطانية عام.....

٦١

٣- حدث الحصار الفارسي للبصرة مما اضطر البريطانيين الى نقل مركز البريد والتجارة الى الكويت عام.....

٤- اضطر البريطانيين الى العودة للكويت مرة اخرى واتخاذها مقر مؤقت لهم عام.....

٥- عقدت إتفاقية الحماية بين الكويت وبريطانيا عام.....

*اكتب عن:-

١- اهمية منطقة الكويت بالنسبة للبريطانيين

٢- علاقة الكويت بالدولة العثمانية

٣- الاسس التي قامت عليها علاقه الدوله العثمانيه بالكويت

١-..... ٢-

٣-..... ٤-

